

ANNEE UNIVERSITAIRE 2018/2019
SESSION 1 DE PRINTEMPS

PARCOURS : L1 Maths/Info

Code UE : 4TPM205

Date : 17 mai 2019

Heure : 9h00

Durée : 1h30

Documents : non autorisés.

Epreuve de Mme : C. Blanc.

Consignes : Ce sujet comporte 8 pages d'exercices (dont une blanche) et 2 pages d'annexe avec les codes des algorithmes de tri de tableau. Vous pouvez détacher l'annexe mais ne séparez pas les autres pages. Vous devez **répondre directement sur le sujet**, insérez ensuite votre réponse dans une copie d'examen comportant tous les renseignements administratifs.

Indiquez votre numéro d'anonymat sur chaque feuille du sujet.



Collège Sciences et Technologies

Numéro d'anonymat :

Questions de cours :

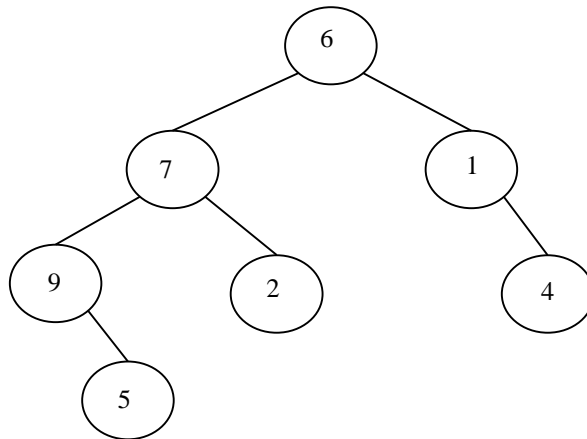
Un arbre binaire d'entiers **strictement positifs** est une structure de données hiérarchisée dans laquelle chaque objet est en relation avec au plus 3 autres objets de la structure quand ils existent : un père, un fils gauche, un fils droit.

Pour stocker un arbre binaire dans un tableau on applique les règles suivantes :

Pour un sommet s de l'arbre stocké dans la case d'indice i :

- **Son fils gauche**, s'il existe, est stocké dans la case d'indice $2*i$. Sinon la case d'indice $2*i$ contient -1
- **Son fils droit** s'il existe est stocké dans la case d'indice $2*i + 1$. Sinon la case d'indice $2*i + 1$ contient -1
- **Son père** est stocké dans la case d'indice $i//2$.
- **Si le sommet n'a pas de père** on dit que c'est la racine de l'arbre et il est stocké dans la case d'indice 1.
- **Si un sommet n'a pas de fils** on dit que c'est une feuille.
- **Les sommets de valeur 0** ne sont pas des sommets significatifs pour l'arbre binaire.

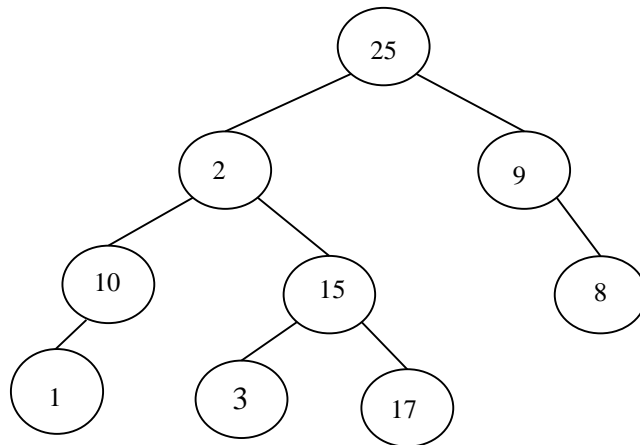
Par exemple, le tableau $t1$ de taille $n1$ représente l'arbre binaire $A1$ dont la racine est de valeur 6 :



t1	0	1	2	3	4	5	6	7	8	9	10	11	12	13	14	15	16	17	18	19	20	...	n1-1
	0	6	7	1	9	2	-1	4	-1	5	-1	-1	0	0	-1	-1	0	0	-1	-1	0	...	0

Arbre binaire A1

1. Construisez le tableau t_2 de taille n_2 représentant l'arbre binaire A_2 ci-dessous :



2. On considère la fonction mystère suivante qui prend en entrée un tableau t de taille n représentant un arbre binaire :

```
def mystere(t,n):  
    cpt= 0  
    i=1  
    while(i<=n//2) :  
        if(t[2*i]== -1 and t[(2*i)+1]== -1) :  
            cpt = cpt+1  
        i=i+1  
    return cpt
```

2.1. Quelle valeur sera retournée par l'appel <code>mystere(t1,n1)</code> ? Justifiez.
2.2. Quelle valeur sera retournée par l'appel <code>mystere(t2,n2)</code> ? Justifiez.
2.3. Dans le cas général que retourne <code>mystere(t,n)</code> lorsque t représente un arbre binaire ? Justifiez.

Numéro d'anonymat :

Exercice 1 : Récursivité

Soit t un tableau de n éléments, on considère la fonction suivante :

```
def mystere(t, n, k):  
    if n==0:  
        return True  
    return (t[n-1]%k==0 and mystere(t, n-1, k))
```

1. Si $v1=[14, 0, 7, 84, 35, 49]$, quel sera le résultat de l'appel `mystere(v1, 6, 7)`? Justifiez.

2. Si $v2=[64, 32, 8, 20, 16]$

Quel sera le résultat de l'appel `mystere(v2, 5, 8)`? Justifiez.

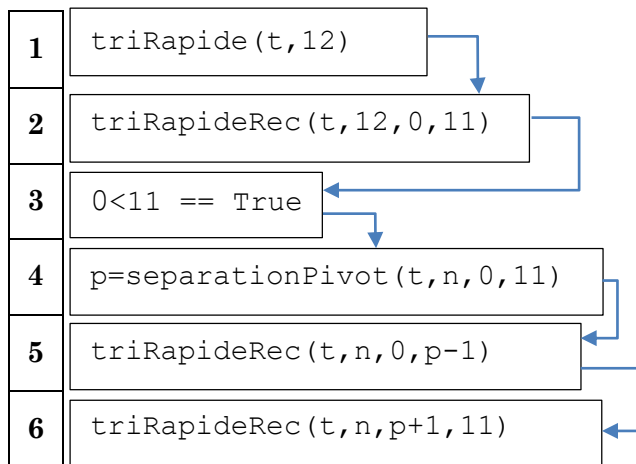
Quelles valeurs de $k > 0$ fourniraient une réponse différente pour le tableau $v2$? Justifiez.

3. Quelle propriété possède un tableau t pour lequel `mystere(t, n, k)` retourne True?

Exercice 2 : Récursivité

Soit t un tableau d'entiers de taille 12. $t=[10, 2, 7, 3, 1, 9, 12, 24, 5, 13, 6, 4]$

Pour trier ce tableau on choisit d'appliquer l'algorithme du tri rapide. Les fonctions qui s'exécuteront sont donc :




On suppose que l'algorithme s'exécute normalement lors des étapes N° 1, 2, 3, 4 et 5 **mais qu'il est interrompu** brutalement avant de réaliser l'étape N° 6.


En justifiant soigneusement votre réponse dites comment sera modifié le tableau t après cette interruption.

Exercice 3 : Tri de tableau

1. Soit $w=[5, 8, 1, 45, 22, 7, 3, 11]$ un tableau de 8 éléments. En détaillant les étapes, appliquez le tri à bulle sur le tableau w .

A large empty rectangular box with a black border, intended for the student to write the steps of the bubble sort algorithm applied to the array w.

2. Appliquez le tri fusion sur le tableau w . Vous détaillerez l'exécution du tri fusion par exemple en dessinant l'arbre des appels et en indiquant l'ordre des appels.

A large empty rectangular box with a black border, intended for the student to draw the call tree and describe the execution of the merge sort algorithm applied to the array w.

Numéro d'anonymat :

Exercice 4 : Majorité absolue

On dit qu'un entier x est un élément majoritaire dans un tableau t de n entiers si le nombre de fois (noté NB_x) où x est présent dans t est supérieur strictement à $n//2$. ($NB_x > n/2$).

Par exemple :

- si $ta=[1, 1, 1, 1, 1, 1, 2, 2, 3]$, 1 est l'élément majoritaire dans ta .
- si $tb=[1, 1, 2, 2, 2, 2, 3, 3]$ il n'y a pas d'élément majoritaire dans tb .
- si $tc=[1, 2, 3, 4]$ il n'y a pas d'élément majoritaire dans tc .

On souhaite écrire une fonction `majoritaire(t, n)` qui prend en entrée un tableau t trié de n entiers et retourne un entier i tel que :

- Si $0 \leq i < n$ alors $t[i]$ représentera un des éléments majoritairement présent dans t
- Si $i == -1$ alors aucun élément n'est majoritaire dans t .

1. En remarquant que dans un tableau trié tous les éléments de même valeur sont consécutifs écrivez la fonction `majoritaire` en complétant le code suivant :

```
1 def majoritaire(t, n):
2     cpt=1
3     i=1
4     e=t[0]
5     while(          ): #definir la zone à explorer dans le tableau
6         if t[i]==e: #des elements consecutifs sont egaux
7
8
9
10        else :
11
12
13
14     return -1
```

2. Sans écrire d'algorithme décrivez une méthode permettant de connaître l'élément majoritaire d'un tableau `t` de `n` entiers non trié. Donnez la complexité en temps de votre méthode et ses éventuels défauts.

3. Modifiez la fonction `majoritaire` pour écrire la fonction `sontTousDifferentes(t, n)` qui prend en entrée un tableau d'entiers triés et retourne `True` si tous les éléments de `t` sont différents et `False` sinon.

Annexe : t est un tableau d'entiers de taille n. Les algorithmes produisent un tri croissant.

Tri sélection :

```
1 def triSelection (t,n):
2     for i in range(n) :
3         iMin=i
4         for j in range(i+1,n) :
5             if(t[j]<t[iMin]):
6                 iMin=j
7     if(i != iMin):
8         echanger(t,i,iMin)
```

Tri insertion :

```
1 def triInsertion(t, n):
2     for i in range(1,n):
3         e=t[i]
4         j=i-1
5         while (j>=0 and t[j]>e):
6             t[j+1]=t[j]
7             j=j-1
8         t[j+1]=e
```

Tri à bulle :

```
1 def triBulle(t,n):
2     for i in range(n-1,0,-1) :
3         for j in range(i) :
4             if(t[j]>t[j+1]) :
5                 echanger(t,j,j+1)
```

Tri Fusion :

```
1 def fusion(t, d, f):
2     r=creerTableau(f-d)
3     m=(d+f)//2
4     i1=d
5     i2=m
6     k=0
7     while (i1<m and i2<f):
8         if (t[i1] < t[i2]):
9             r[k] = t[i1]
10            i1=i1+1
11        else :
12            r[k] = t[i2]
13            i2=i2+1
14            k=k+1
15        while (i1 < m):
16            r[k] = t[i1]
17            i1=i1+1
18            k=k+1
19        while (i2 < f):
20            r[k] = t[i2]
21            i2=i2+1
22            k=k+1
23        for k in range(f-d):
24            t[d+k]=r[k]
```

```
1 def triFusion (t,d,f):
2     if (d<f-1):
3         m=(d+f)//2
4         triFusion(t,d,m)
5         triFusion(t,m,f)
6         fusion(t,d,f)
```

1^{er} Appel :

```
triFusion(t,0,n)
```

Tri rapide :

```
1 def separationPivot(t,n, d, f):
2     p = d
3     i = d
4     j = f
5     while(i<=j):
6         if (t[i]<t[p]):
7             i=i+1
8         else :
9             echanger(t,i,j)
10            if (i==p):
11                p=j
12            else :
13                if (j==p):
14                    p=i
15                j=j-1
16    echanger (t, i, p)
17    return (i)
```

```
1 def triRapideRec(t, n, d, f):
2     if(d<f):
3         p=separationPivot(t,n,d,f)
4         triRapideRec(t,n,d,p-1)
5         triRapideRec(t,n,p+1,f)

def triRapide(t, n):
    triRapideRec(t,n,0,n-1)
```