

Nom :

Prénom :

Groupe :

_____ Le sujet comporte 4 exercices et 7 pages, dont une page d'annexe _____
Aucun document n'est autorisé : toutes les fonctions de manipulation des graphes disponibles sont
rappelées en annexe page 7. Vous pouvez détacher cet annexe pour plus de facilité.

Exercice 1 Soit un graphe à 6 sommets, dont voici les listes de voisins :

- voisins de A : [C]
- voisins de B : [C, C, F]
- voisins de C : [A, B, B, F]
- voisins de D : [D, D]
- voisins de E : [E, E, F]
- voisins de F : [B, C, E]

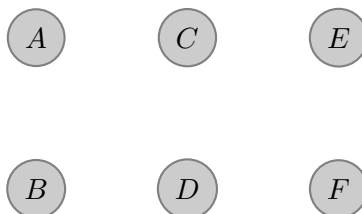
1. Donner le degré de chaque sommet du graphe :

$$d(A) = \boxed{}, d(B) = \boxed{}, d(C) = \boxed{}, d(D) = \boxed{}, d(E) = \boxed{}, d(F) = \boxed{}$$

2. Le graphe possède-t-il des boucles ? Si oui combien et pour quel(s) sommet(s) ?

3. Le graphe possède-t-il des arêtes multiples ? Si oui combien et pour quels sommets ?

4. Compléter le dessin de ce graphe.



5. Après avoir numéroté les différentes arêtes du graphe, donner une chaîne élémentaire de longueur maximale.

Exercice 2 Voici une fonction Python :

```
def mystere(n, k):  
    p = 1  
    i = 0  
    while i < k:  
        p = p * (n - i)  
        p = p / (i + 1)  
        i = i + 1  
    return p
```

1. Simuler l'exécution de `mystere(6,3)` en donnant les valeurs successives des variables `p` et `i` dans le tableau suivant :

$n = 6, k = 3$

p	
i	

2. D'une manière générale, indiquer ce que retourne `mystere(n,1)` en fonction de l'entier `n` (on suppose $n > 0$). Même question pour `mystere(n,2)`.

3. D'une manière générale, indiquer ce que retourne `mystere(n,k)` en fonction des entiers strictement positifs `n` et `k`.

4. Réécrire la fonction mystère en utilisant une boucle `for` plutôt qu'une boucle `while`.

Nom :

Prénom :

Groupe :

Exercice 3

1. Écrire une fonction `couleurDifferenteDesVoisins(s)` qui renvoie `True` si le sommet `s` est colorié avec une couleur distincte de celle de chacun de ses voisins, et renvoie `False` sinon. Dans tout cet exercice on supposera que `'white'` est aussi une couleur.

Un graphe est dit bien colorié si deux sommets voisins ont toujours des couleurs différentes.

2. En réutilisant la fonction précédente, écrire une fonction `bienColorie(G)` qui teste si un graphe `G` est bien colorié.

3. Écrire une fonction `nbSommetsMalColories(G)` qui renvoie le nombre de sommets mal coloriés du graphe `G` (un sommet est mal colorié s'il a la même couleur qu'un de ses voisins).

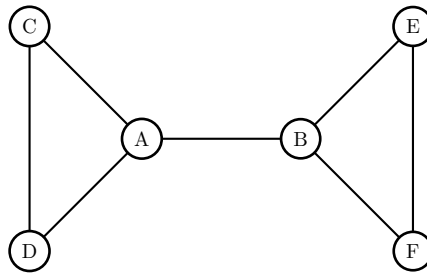
4. Écrire une fonction `nbAretesBicolores(G)` qui renvoie le nombre d'arêtes bicolores du graphe G (une arête est bicolore si ses extrémités sont de couleurs différentes).

Exercice 4 Soit G un graphe simple connexe.

Dans G , un **isthme** est une arête dont la suppression détruit la connexité du graphe.

Dans G , un **point d'articulation** est un sommet dont la suppression détruit la connexité du graphe (la suppression d'un sommet s enlève également les arêtes incidentes à s).

Par exemple, le graphe suivant a **1 isthme** et **2 points d'articulation** :



L'arête $A-B$ est un isthme (si on l'enlève, les sommets A, C et D sont déconnectés des sommets B, E et F); c'est le seul (si on enlève n'importe quelle autre arête, le graphe reste connexe). Les points d'articulation sont A et B .


1. Dessiner un graphe simple connexe admettant exactement 2 isthmes et 1 point d'articulation (les mettre en évidence).

Nom :


Prénom :

Groupe :


2. Dessiner un graphe simple connexe admettant un point d'articulation (le mettre en évidence), mais n'admettant aucun isthme.




3. Peut-on dessiner un graphe simple connexe admettant un isthme, mais n'ayant aucun point d'articulation ? Justifier votre réponse par un exemple ou une explication.



4. Un graphe simple connexe dont tous les sommets sont de degré pair peut-il avoir un point d'articulation ? Justifier votre réponse par un exemple ou une explication.



5. Un graphe simple connexe dont tous les sommets sont de degré pair peut-il avoir un isthme? Justifier votre réponse par un exemple ou une explication.



Annexe : voici un rappel des principales fonctions disponibles pour manipuler les graphes (à vous de voir celles qui sont utiles pour ce devoir).

L'argument G est un graphe	
<code>listeSommets(G)</code>	retourne la <i>liste</i> des <i>sommets</i> de G
<code>nbSommets(G)</code>	retourne le <i>nombre</i> de <i>sommets</i> de G
<code>sommetNom(G,etiquette)</code>	retourne le <i>sommet</i> de G désigné par son <i>nom</i> (<i>etiquette</i>). Exemple : <code>sommetNom(Europe, 'Italie')</code>
<code>dessinerGraphe(G)</code> ou simplement <code>dessiner(G)</code>	demande (très poliment) au logiciel <i>Graphviz</i> de dessiner le graphe G ; voir page suivante pour les détails

L'argument s est un sommet	
<code>listeVoisins(s)</code>	retourne la <i>liste</i> des <i>voisins</i> de s
<code>degre(s)</code>	retourne le <i>degré</i> de s
<code>nomSommet(s)</code>	retourne le <i>nom</i> (étiquette) de s
<code>colorierSommet(s,c)</code>	colorie s avec la couleur c . Exemples de couleurs : 'red', 'green', 'blue', 'white', 'cyan', 'yellow'
<code>couleurSommet(s)</code>	retourne la <i>couleur</i> de s
<code>marquerSommet(s)</code>	marque le sommet s
<code>demarquerSommet(s)</code>	démarque le sommet s
<code>estMarqueSommet(s)</code>	retourne True si s est marqué, False sinon
<code>listeAretesIncidentes(s)</code>	retourne la <i>liste</i> des arêtes <i>incidentes</i> à s

L'argument a est une arête	
<code>nomArete(a)</code>	retourne le <i>nom</i> (étiquette) de a
<code>marquerArete(a)</code>	marque l'arête a
<code>demarquerArete(a)</code>	démarque l'arête a
<code>estMarqueeArete(a)</code>	retourne True si a est marquée, False sinon

Arguments : un sommet s et une arête a	
<code>sommetVoisin(s,a)</code>	retourne le sommet voisin de s en suivant l'arête a